

4 いつも安定して水を

(1) わたしたちが使っている水は、どこから来ているのでしょうか。

わたしたちが使っている水は、どこから来ているのでしょうか。

●地図の中のダムをさがして、ダムに色をぬりましょう。



→ 33 ページの年表を見よう。



▲矢木沢ダム (群馬県)

一番遠い矢木沢ダム(群馬県)は都庁(新宿区)からだいたい150キロメートル(km)はなれているんだよ。



水源量とは…

水道水を作るために、一日当たりに川などから取ることができる水の量の事です。

●東京都の水源

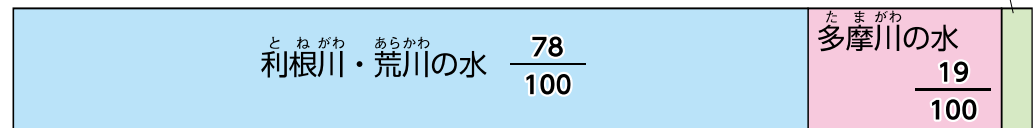
東京都の水道水は、ほとんどが利根川、荒川、多摩川の水を使っています。その中でも、利根川と荒川の水を多く使っており、利根川と荒川は武蔵水路でつながっています。

東京都の水源量は 630 万³m (東京ドーム約5杯分※) です。

※東京ドームの体積は 124 万³m

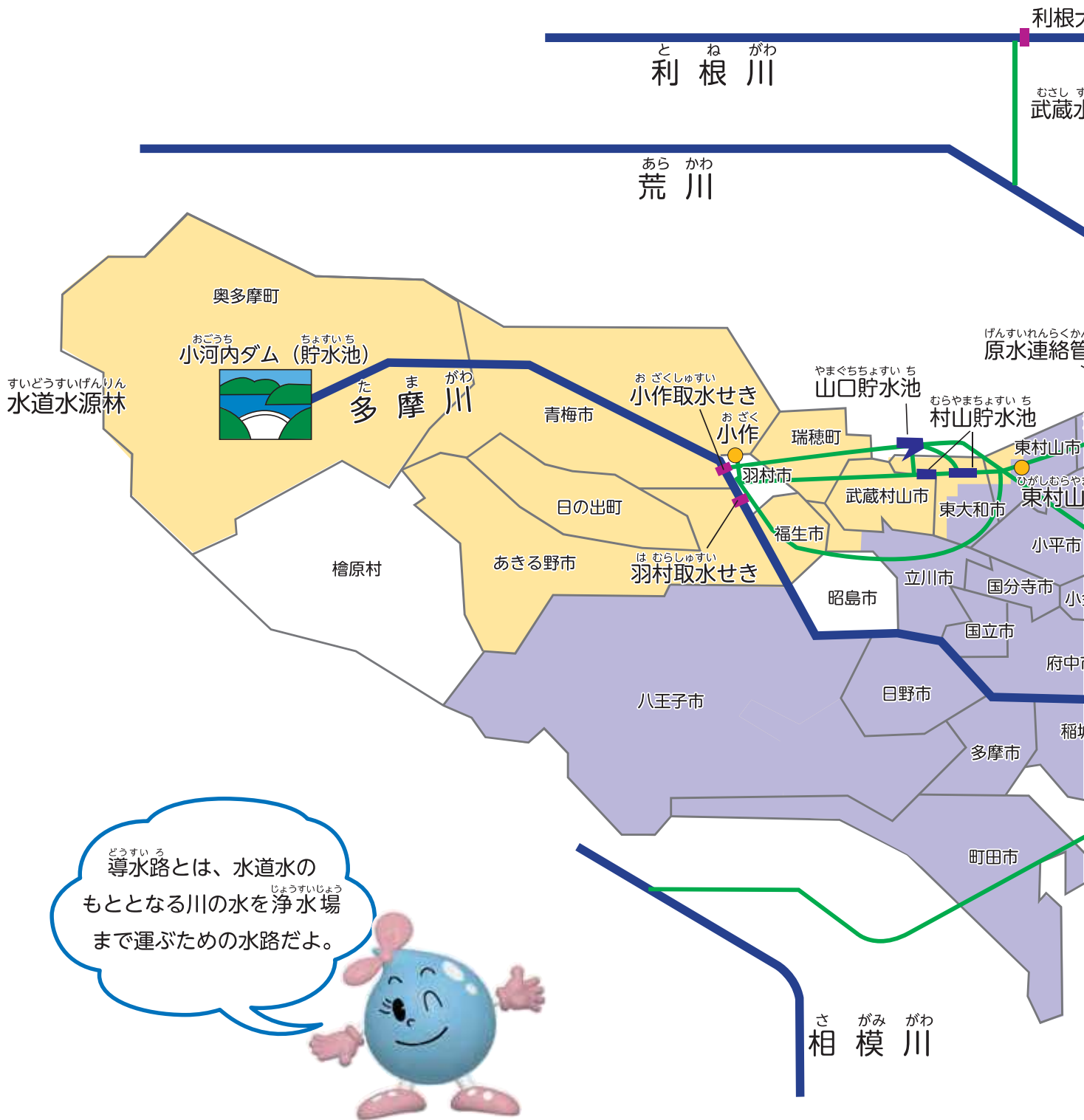
全体を 100 とした時の数

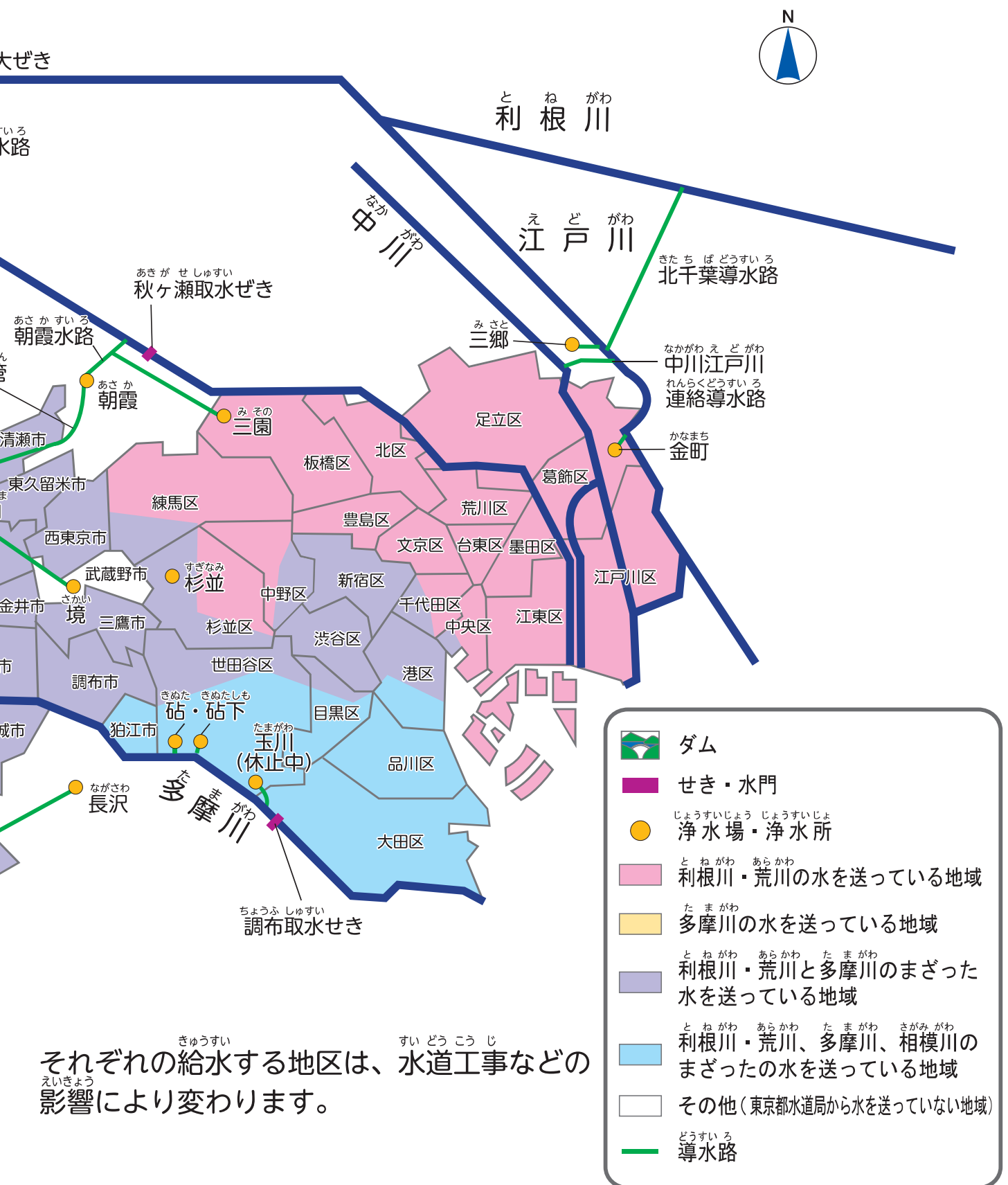
その他 $\frac{3}{100}$



わたしたちの住む地いきはどの川の水を使っているのかな？
→ 15・16 ページを見てみよう。

●どここの川の水が東京都のどの地区に送られているのでしょうか。





それぞれの給水する地区は、水道工事などの影響により変わります。

注 東京都の島しょ部については、東京都水道局から水を送っていない地域です。